

V OLIMPIADA DE GEOGRAFIA DE ESPAÑA
Jaca, 6 de abril de 2014

<p>1.-Los tres grandes rasgos del relieve peninsular son:</p> <p>a) Perfil litoral poco recortado, elevada altitud media y relieve compartimentado b) Costas agrestes, cordilleras elevadas y llanuras de poca altitud c) Perfil litoral poco recortado, llanuras extensas a poca altitud y relieve compartimentado d) Dominio de zonas llanas y escasa presencia de cordilleras que, además, tienen altitudes modestas.</p>	<p>2.-¿Porqué las cumbres de algunas montañas ibéricas presentan aspecto redondeado?</p> <p>a) Por su gran antigüedad. b) Por la dureza de sus materiales. c) Por la ausencia de procesos erosivos intensos. d) Por que son restos de superficies planas antiguas elevadas durante la orogenia alpina</p>
<p>3.-En la actualidad en España se encuentran glaciares en:</p> <p>a) Pirineos b) Pirineos y Cordillera Cantábrica c) Pirineos, Cordillera Cantábrica y Sierra Nevada d) Cordillera Cantábrica</p>	<p>4.-El flysch se caracteriza por:</p> <p>a) La alternancia de finas capas de sedimentos de mayor y menor dureza b) La combinación de granitos y pizarras c) La combinación de pizarras y mármoles d) La alternancia de arcillas, margas y limolitas</p>
<p>5.-Los modelados kársticos son propios de rocas de tipo:</p> <p>a) Conglomerados b) Arcillas c) Calizas d) Metamórficas</p>	<p>6.-Cadenas montañosas como los Pirineos o la Cordillera Cantábrica son fruto de la orogenia:</p> <p>a) Hercínica b) Alpina c) Mesozoica d) Miocena</p>
<p>7.-Observa el mapa de tu derecha y selecciona la respuesta correcta:</p> <p>a) 1.Pirineos, 2.Sierra Morena, 3.Montes de Toledo, 4.Sistemas Béticos, 5.Cordillera Cantábrica b) 1.Pirineos, 2.Sierra Morena, 3.Montes de Toledo, 4.Sierra de Aracena 5.Cordillera Cantábrica c) 1.Pirineos, 2.Sierra Morena, 3.Montes de Toledo, 4.Sistemas Béticos, 5.Montes de León d) 1.Pirineos, 2.Sistema Central, 3.Montes de Toledo, 4.Sistema Béticos, 5.Cordillera Cantábrica</p>	
<p>8.-Las zonas con mayor riesgo sísmico de la península son:</p> <p>a) La Cordillera Cantábrica y Galicia b) La zona litoral y prelitoral del SE y el Pirineo c) El Sistema Central y la Meseta Norte d) EL Sistema Central y la Meseta Sur</p>	<p>9.-Las curvas de nivel son líneas que unen puntos...:</p> <p>a) De igual orientación b) De igual altitud c) De igual nivel de precipitación d) De igual nivel de humedad</p>
<p>10.-Las Islas Baleares son la prolongación de:</p> <p>a) El Sistema Ibérico b) La Cordillera Costero Catalana c) Los Sistemas Béticos d) Los Alpes Marítimos</p>	<p>11.-Uno de los siguientes complejos no es de carácter litoral:</p> <p>a) La Albufera b) Tablas de Daimiel c) Delta del Ebro d) Marismas del Guadalquivir</p>
<p>12.-Por qué los ríos de la vertiente atlántica son, por general, más largos que los de la vertiente mediterránea, si exceptuamos el Ebro?</p> <p>a) Porque las precipitaciones son más abundantes. b) Porque recorren zonas más llanas. c) Porque tienen trayectorias más sinuosas. d) Porque el bloque constituido por la Meseta está basculado hacia el oeste.</p>	<p>13.-Teniendo en cuenta la superficie de la cuenca hidrográfica, y ordenadas de mayor a menor, la respuesta correcta es:</p> <p>a) Ebro, Duero, Tajo, Júcar b) Ebro, Tajo, Duero, Júcar c) Duero, Ebro, Tajo, Júcar d) Tajo, Ebro, Duero, Júcar</p>

14.- Observa el mapa de tu derecha y selecciona la respuesta correcta:

- a) 1.Ebro, 2.Tajo, 3.Guadiana, 4.Guadalquivir, 5.Duero
- b) 1.Ebro, 2.Duero, 3.Guadiana, 4.Guadalquivir, 5.Tajo
- c) 1.Ebro, 2.Tajo, 3.Guadalquivir, 4.Guadiana, 5.Duero
- d) 1.Ebro, 2.Tajo, 3.Guadalquivir, 4.Guadiana, 5.Miño



15.- Si hablamos del territorio que drena un río nos estamos refiriendo a:

- a) La cuenca
- b) El caudal
- c) el régimen
- d) el lecho

16.- Los ríos de la vertiente norte de las Cordilleras Béticas desembocan en:

- a) Mar Mediterráneo
- b) Mar de Alborán
- c) Océano Atlántico
- d) Mar Tirreno

17.- Un climograma muestra:

- a) Temperaturas y precipitación de un determinado lugar
- b) Humedad y temperaturas de un determinado lugar
- c) Precipitaciones y presión atmosférica de un determinado lugar
- d) Temperatura a 850hpa y 500hpa de un punto concreto

18.- Las depresiones que suelen darse en el Mediterráneo occidental en los primeros meses del otoño se denominan popularmente:

- a) Ciclogénesis explosivas
- b) Borrascas retrógradas
- c) Medicanes (Mediterranean Hurricanes)
- d) Gota fría

19.- Las precipitaciones en el clima mediterráneo se caracterizan por:

- a) Ser irregulares y, con frecuencia, torrenciales.
- b) Ser muy homogéneas en su cuantía y distribución
- c) Ser muy escasas.
- d) Ser irregulares y más frecuentes en invierno.

20.- Las isobaras son líneas que unen puntos:

- a) De igual precipitación
- b) De igual presión atmosférica
- c) De igual temperaturas
- d) De igual humedad

21.- Los frentes en los que la masa de aire más cálido penetra en la de aire más frío son:

- a) Frente fríos
- b) Frentes cálidos
- c) Frentes ocluidos
- d) Frentes polares

22.- La diferencia entre la temperaturas máxima y mínimas (ya sea diaria, mensual, etc.) se denomina:

- a) Amplitud térmica
- b) Rango termométrico
- c) Variación térmica
- d) Gradiente térmico

23.- Inviernos largos y fríos, con veranos cortos, secos y moderados caracterizan, grosso modo, al clima:

- a) De interior o continental
- b) De montaña
- c) Atlántico
- d) Mediterráneo

24.- La denominada España seca se corresponde con los climas:

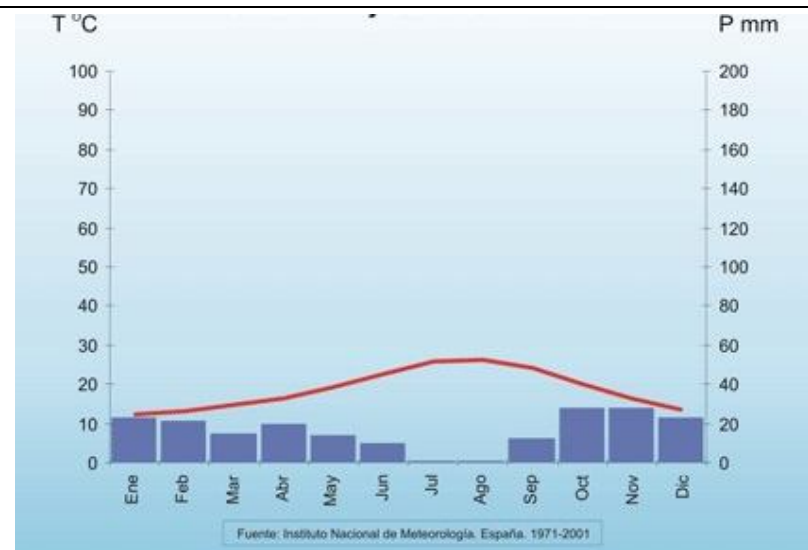
- a) De montaña
- b) Continental
- c) Continental y Mediterráneo
- d) Mediterráneo

25.- ¿Que tipo de clima representa el climograma de la derecha?

- a) Clima mediterráneo costero
- b) Clima mediterráneo árido y subárido
- c) Oceánico de transición
- d) Oceánico costero

26.- ¿A que ciudad correspondería?

- a) Bilbao
- b) Almería
- c) Santander
- d) Tarragona



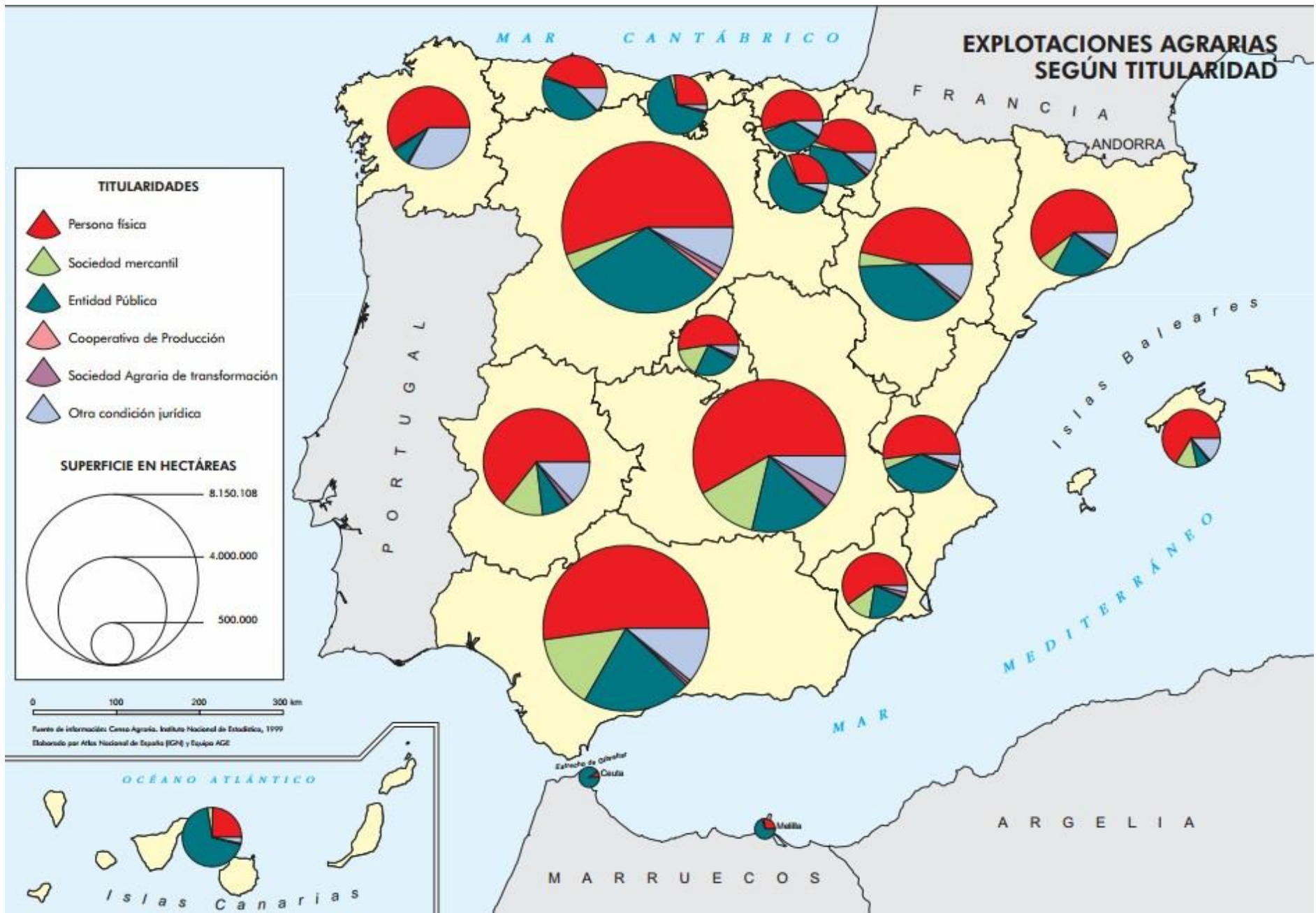
<p>27.- Las precipitaciones producidas cuando una masa de aire caliente choca con una montaña, se eleva y se enfría se denomina:</p> <p>a) Lluvias térmicas b) Lluvias ciclónicas c) Lluvias orográficas d) Lluvias monzónicas</p>	<p>28.- ¿Cual de estas masas de aire afecta a la península sobre todo en invierno?</p> <p>a) Polar continental b) Tropical continental c) Polar marítima d) Tropical marítima</p>
<p>29.-La presencia de hayedos suele asociarse con el clima:</p> <p>a) De montaña b) Oceánico c) Continental d) Mediterráneo</p>	<p>30.- Las heladas tienen dos orígenes fundamentales. ¿Cuáles son?</p> <p>a) Advección y consolidación b) Irradiación y advección. c) Saturación y evapotranspiración. d) Saturación y acidificación.</p>
<p>31.- En la vegetación española están representadas 3 grandes regiones:</p> <p>a) La Atlántica, la Mediterránea y la Canaria b) La Cantábrica, la Mediterránea y la Canaria c) La Cantábrica, la Mediterránea y la Macaronésica La Eurosiberiana, la Mediterránea y la Macaronésica</p>	<p>32.- La región conocida como Eurosiberiana se extiende por:</p> <p>a) Canarias b) 80% de la península y Baleares c) Norte y Noreste peninsular d) Todas son correctas</p>
<p>33.- La conocida como “España Parda” o Mediterránea se extiende por:</p> <p>a) Canarias b) 80% de la península y Baleares c) Norte y Noreste peninsular d) Todas son correctas</p>	<p>34.- Señala la respuesta correcta, los fluvisoles son:</p> <p>a) Suelos formados por materiales aluviales aportados por los ríos b) Suelos poco aptos para la agricultura c) Suelos con alto interés agrícola d) Son correctas la respuesta a y la c</p>
<p>35.-La tasa de natalidad se relaciona:</p> <p>a) Los nacidos respecto a la población total (tantos por mil) b) Los nacidos respecto a la población menor de 49 años (en tanto por mil) c) Los nacidos respecto a la población femenina de entre 16 y 49 años (en tantos por mil) d) Los nacidos menores de 5 años respecto a la población femenina de entre 16 y 49 años</p>	<p>36.-Los Censos de Población se realizan cada:</p> <p>a) 5 años b) 10 años c) Se actualizan cada año d) Es un registro de población abierto, y por tanto constantemente actualizado</p>
	<p>37.-La figura que ves a tu izquierda y que es una representación gráfica específica de la estructura por sexo y edad de la población se denomina:</p> <p>a) Histograma estructural b) Histograma demográfico c) Pirámide de población d) Nube de dispersión demográfica</p> <p>38.- Observa esta figura y marca la respuesta correcta:</p> <p>a) Representa gráficamente una región con población eminentemente joven. b) Representa gráficamente una región con población madura en proceso de envejecimiento c) Representa gráficamente una región con elevadas tasas de natalidad d) Representa gráficamente una región en vías de desarrollo</p>
<p>39.-El padrón municipal es:</p> <p>a) Registro de matrimonios, nacimientos y defunciones b) Registro de los vecinos de los términos municipales c) El recuento de la población en función de su actividad económica en cada municipio d) Recuento individualizado de la población del país en un momento determinado</p>	<p>40.-La fase final de la llamada transición demográfica se caracteriza por:</p> <p>a) Bajas tasas de natalidad y mortalidad b) Alta tasa de natalidad y baja tasa de mortalidad c) Altas tasas de natalidad y mortalidad d) Rápido crecimiento de la población</p>
<p>41.- El crecimiento real de la población equivale a:</p> <p>a) La diferencia entre el saldo migratorio y el crecimiento natural b) El crecimiento natural más el saldo migratorio c) El crecimiento vegetativo d) El crecimiento natural más el crecimiento vegetativo</p>	<p>42.- El censo de población es:</p> <p>a) Individual y publico b) Colectivo y público c) Individual y secreto d) Colectivo y secreto</p>

43.- La población activa en el sector agrario:
 a) Ha disminuido de forma constante durante la segunda mitad del siglo XX
 b) Se ha mantenido constante durante la segunda mitad del siglo XX
 c) Ha disminuido de forma muy abrupta en la segunda mitad del siglo XX recuperándose en la última década
 d) Se ha mantenido con ligeros repuntes durante la segunda mitad del siglo XX

44.- La mayor parte de la población extranjera en España se concentra en:
 a) La cornisa cantábrica.
 b) Las grandes y medias ciudades
 c) La costa del SE Peninsular y las Islas Baleares
 d) El arco mediterráneo y las grandes ciudades

45.- El vaciamiento poblacional de las zonas rurales en favor de las grandes urbes recibe el nombre de:
 a) Movimientos pendulares
 b) Éxodo rural
 c) Rururbanización
 d) Suburbanización

46.- La mayor parte del consumo de agua en España corresponde:
 a) La industria
 b) Los abastecimientos urbano
 c) Los usos recreativos
 d) La agricultura



47.- Observa el mapa anterior y señala que Comunidad Autónoma tiene un porcentaje mas alto de explotaciones agrarias en manos de entidades públicas:
 a) Islas Baleares
 b) Cataluña
 c) Islas Canarias
 d) Andalucía


48.- Observa el mapa anterior y señala que Comunidad Autónoma tiene un porcentaje mas alto de explotaciones agrarias en manos de personal física:
 a) Islas Baleares
 b) Islas Canarias
 c) Andalucía
 d) Comunidad Valenciana

49.- La presencia de sociedades mercantiles como propietarias de explotaciones en España es más frecuente:
 a) Galicia
 b) Islas Canarias
 c) Andalucía
 d) Comunidad Valenciana

50.- ¿Cuál es el cultivo más habitual en las tierras españolas, ocupando un tercio de todo el territorio?
 a) Viña
 b) Cereales
 c) Olivar
 d) Leguminosas


51.- En España los latifundios se asocian, grosso modo, a:
 a) Ambas Castillas
 b) La mitad Sur del país
 c) El Valle del Ebro y Castilla-León
 d) El Sur de Sierra Morena y zonas Mediterráneas

52.-La cabaña porcina más numerosa se encuentra en:
 a) El NE de la península y alguna provincia del interior.
 b) El Cantábrico
 c) EL W peninsular y Andalucía
 d) El SE peninsular, especialmente la Andalucía mediterránea

<p>53.- ¿Cuál de las siguientes actividades se incluye en el sector primario?</p> <ul style="list-style-type: none"> a) La construcción b) La artesanía c) La minería d) La manufactura 	<p>54.- Según la cantidad de trabajo, el modo de aprovechamiento agrario se divide en:</p> <ul style="list-style-type: none"> a) Secano o regadío b) Intensivo o extensivo c) Jornalero o cooperativo d) Agrícola o ganadero
<p>55.- Señala la afirmación FALSA, en cuanto a las características del sector servicios:</p> <ul style="list-style-type: none"> a) La aportación de los servicios al PIB es de más del 60% en España. b) Las nuevas tecnologías favorecen la creación de nuevos servicios. c) Las empresas de servicios son escasas, representan un 20% del total. d) La mano de obra ocupada en el sector terciario supera el 60% en España. 	<p>56.- La política de transportes en la Unión Europea pretende:</p> <ul style="list-style-type: none"> a) Conectar todas las grandes capitales con Berlín, fomentar las conexiones con Norte América y Japón, y desarrollar un sistema de transportes sostenible b) Equilibrar los modos de transporte y establecer conexiones transeuropeas y fomentar un sistema de transporte sostenible. c) Mejorar las carreteras de los nuevos países miembros con los fondos de cohesión. d) Potenciar el transporte marítimo a larga distancia y priorizar el uso del transporte aéreo.
<p>57.- La tasa de paro española en 2013 se encontraba en el entorno:</p> <ul style="list-style-type: none"> a) 26% b) 19% c) 13% d) 28,5% 	<p>58.- Se denomina con el nombre de reconversión industrial al proceso de:</p> <ul style="list-style-type: none"> a) Concentración de industrias en una región determinada b) Adaptación y modernización de las actividades industriales en crisis c) Descentralización de una parte de actividades industriales d) Ninguna es correcta
<p>59.- La energía primaria es:</p> <ul style="list-style-type: none"> a) La que utilizan los seres humanos en los primeros tiempos b) Aquella que se encuentra en la naturaleza y precisa ser transformada para su utilización c) La que se utiliza para satisfacer las primeras necesidades de la sociedad d) Aquella ya transformada para producir 	<p>60.- El comercio interior es aquel que:</p> <ul style="list-style-type: none"> a) Se rige por la oferta y la demanda b) Tiene lugar entre países c) Se realiza dentro de un país d) Ninguna es correcta
<p>61.- ¿Como es la balanza comercial en España en las dos últimas décadas?</p> <ul style="list-style-type: none"> a) Negativa b) Positiva c) Equilibrada d) Negativa los primeros años y positiva últimamente 	<p>62.- Las principales áreas de comercio exterior de España son:</p> <ul style="list-style-type: none"> a) Unión Europea y América Latina. b) Unión Europea y Magreb islámico c) Unión Europea y Oriente Medio d) Unión Europea, China y Japón
<p>63.- El abastecimiento de Gas natural español se efectúa de forma prioritaria del siguiente modo:</p> <ul style="list-style-type: none"> a) A través del estrecho, principalmente con gas de Argelia b) A través del Pirineo con gas proveniente de Rusia y Ucrania c) Con recursos propios principalmente obteniéndolo mediante "fracking" d) A través de barcos de procedencia variada 	<p>64.- La red de tren de alta velocidad española (AVE) presenta una morfología:</p> <ul style="list-style-type: none"> a) Ortogonal b) Periférica c) Radial d) Recorre la costa mediterránea
<p>65.- El siguiente plano es un ejemplo de:</p>  <ul style="list-style-type: none"> a) Ciudad Radial b) Ortonogonal c) Laberíntico d) Ciudad lineal 	<p>66.- En España las ciudades de Valencia, Zaragoza, Sevilla y Valladolid son ejemplo de:</p> <ul style="list-style-type: none"> a) Ciudades de primer nivel jerárquico b) Ciudades de segundo nivel jerárquico c) Metrópolis estatales d) Subcabeceras regionales <p>67.- El poblamiento disperso es típico de:</p> <ul style="list-style-type: none"> a) SE peninsular, espacialmente Murcia y Almería b) El NW peninsular c) Regiones del interior d) Extremadura y zonas occidentales de ambas Castillas <p>68.- El proceso que se consigue con la rehabilitación de edificios antiguos como residencias de lujo o instalando comercios y actividades de moda, diseño, restauración, etc. se denomina:</p> <ul style="list-style-type: none"> a) Desarrollo urbano selectivo b) Rehabilitación selectiva c) Ensanche d) Gentrificación

<p>69.- La acción de asignar un uso urbanístico concreto a cada parte del suelo se denomina:</p> <p>a) Urbanizar b) Clasificación del suelo c) Calificación del suelo d) Plan General de Ordenación Urbana (PGOU)</p>	<p>70.- Atendiendo a las funciones urbanas las ciudades primarias están especializadas en:</p> <p>a) Ser multifuncionales. b) Estar centradas en las actividades del sector primario. c) Ser las primeras en población del país. d) Ofrecer servicios bancarios de primer orden.</p>
<p>71.- El conjunto de varias ciudades de importancia similar que acaban formando un continuo urbano y una unidad funcional se denomina:</p> <p>a) Conurbación b) Megalopoli c) Área metropolitana d) Metròpoli</p>	<p>72.- La aglomeración urbana formada por una gran ciudad central y otras localidad próximas a ella, se denomina:</p> <p>a) Megalópolis b) Suburbio c) Metròpoli d) Zona periurbana</p>
<p>73.- La actual división provincial de España es obra de:</p> <p>a) Javier de Burgos en 1833 b) Javier de Burgos en 1933 c) Mendizábal en 1923 d) La Constitución española de 1978</p>	<p>74.- El tratado de Roma de 1957 lo firmaron:</p> <p>a) Alemania, Francia, Italia, Gran Bretaña, Bélgica y Holanda b) Alemania, Francia, Bélgica, Gran Bretaña, Luxemburgo y Holanda c) Alemania, Francia, Italia, Bélgica, Holanda y España d) Alemania, Francia, Italia, Bélgica, Luxemburgo y Holanda</p>
<p>75.- Los órganos políticos de la UE son:</p> <p>a) Consejo Europeo, Parlamento, Consejo de la Unión Europea y Comisión Europea b) Consejo Europeo, Parlamento y Comisión Europea c) Consejo Europeo, Parlamente y Comisión del Banco Central d) Parlamento, Banco Central y Troika</p>	<p>76.- ¿Cada cuántos años se eligen los miembros que forman parte del Parlamento Europeo?</p> <p>a) 5 b) 4 c) 3 d) 8</p>
<p>77.- Las siglas FEDER significan:</p> <p>a) Fondo Europeo de Dinamismo y Reconversión Regional b) Fondo Estatal de Desarrollo de la Energía Renovable c) Fondo Europeo de Desarrollo Regional d) Federación Española por el Desarrollo Estructural Rural</p>	<p>78.- La iniciativa europea LEADER busca:</p> <p>a) Favorecer el desarrollo sostenible de zonas rurales. b) Fomentar la reconversión industrial c) Regenerar barrios urbanos degradado d) La cooperación transfronteriza en zonas periféricas</p>
<p>79.- España entre en la Comunidad Económica Europea en:</p> <p>a) 1986, junto con Portugal b) 1986 junto con Portugal y Grecia c) 1992 junto con Portugal d) 1989 Junto con Portugal y Grecia</p>	<p>80.- Las siglas CECA responden a:</p> <p>a) Confederación Estatal de Comercio Autónomo b) Comunidad Europea del Carbón y del Acero c) Confederación Europea del Comercio Atlántico d) Cámara Europea de Cuentas de las Administraciones</p>
<p>81.- La afirmación: "La civilización de un país depende de las características físicas del medio..." se enmarca en la corriente de pensamiento:</p> <p>a) Determinismo b) Posibilismo c) Cuantitativismo d) Dependencia global</p>	<p>82.- La energía más cara, en costes alimenticios y sociales para los países en vías de desarrollo es...</p> <p>a) Energía Solar. b) Energía Eólica. c) Biocombustibles. d) Energía Atómica.</p>
<p>83.- La Eurozona hace referencia a:</p> <p>a) Los países que tienen el Euro como moneda b) El grupo de países que fundaron la Comunidad Económica Europea c) Los países que actualmente componen la Comunidad Económica Europea d) Aquellos países que utilizan el euro como moneda en la que emitir deuda</p>	<p>84.- ¿Cuál es el principal órgano legislativo de la Unión Europea y que se responsabiliza de su política exterior y seguridad?</p> <p>a) Parlamento Europeo b) Consejo Europeo c) Consejo de la Unión Europea d) Comisión Europea</p>

<p>85.- “Una comunidad independiente, reconocida internacionalmente, que ejerce su soberanía sobre un territorio definido” se considera...</p> <p>a) País b) Nación c) Estado d) Territorio</p>	<p>86.- El Euro entro en circulación el año:</p> <p>a) 2002 b) 2000 c) 2005 d) 1996</p>
<p>87.- El desarrollo del llamado Estado de Bienestar incrementa especialmente los siguientes sectores productivos:</p> <p>a) Educación, Sanidad, Administración b) Comercio, Industria y Ocio c) Comercio, Sanidad y Ocio d) Industria, Transporte y Sanidad</p>	<p>88.- El programa “Patrimonio de la Humanidad” ha sido propuesto por:</p> <p>a) La Unión Europa b) La UNESCO c) Banco Mundial d) Ministerio de Cultura</p>
<p>89.-La cantidad de residuos por habitante y año en España:</p> <p>a) Tiende a aumentar b) Se mantiene estable c) Tiende a disminuir a) Ninguna es correcta</p>	<p>90.- Las políticas para gestionar los residuos sólidos persiguen:</p> <p>a) Su acumulación en basureros b) Su incineración c) La reducción de su volumen y su puesta en valor d) Depósito en vertederos controlados</p>
<p>91.- ¿Qué gas incoloro es fundamental y beneficioso para el efecto invernadero natural aunque su aumento en la atmósfera, provocado por la actividad humana está contribuyendo al cambio climático?</p> <p>a) Monóxido de nitrógeno b) Acido clorhídrico c) Dióxido de carbono d) Monóxido de carbono</p>	<p>92.-La Comunidad Autónoma de La Rioja está ubicada:</p> <p>a) Al sur de Canarias b) Al oeste de Aragón c) Al este de Aragón d) Al sur de Madrid</p>
<p>93.-Las comarcas son:</p> <p>a) Circunscripciones administrativas de ámbito supraautonómico b) Circunscripciones administrativas de ámbito supramunicipal c) Circunscripciones administrativas de ámbito supraestatal d) Circunscripciones administrativas de ámbito nacional</p>	<p>94.- La organización territorial común en España es:</p> <p>a) Estado, Comunidad Autónoma, Provincia y Municipio b) Estado, Comunidad Autónoma, Provincia, Begueria, Municipio c) Estado, Comunidad Autónoma y Provincia d) Estado, Comunidad Autónoma, Provincia, Comarca y Municipio</p>
<p>95.- ¿Cuál de las siguientes afirmaciones sobre la España de las Autonomías no es correcta?</p> <p>a) Son territorios con características culturales comunes b) Surge de la constitución de 1978 c) Ha producido una gran descentralización de Madrid d) Hay 17 comunidades autónomas</p>	<p>96.- ¿Cuántas provincias tiene la Comunidad Autónoma de Andalucía?</p> <p>a) 8 b) 9 c) 7 d) 6</p>
<p>97.-¿Cuál fue el primer Parque Nacional designado en España como espacio natural a proteger?</p> <p>a) Doñana b) Timanfaya c) Monfragüe d) Ordesa y Monte Perdido</p>	<p>98.- ¿Cuál de los siguientes problemas medioambientales no está derivado de la producción energética?</p> <p>a) Lluvia ácida b) Reducción de la diversidad biológica c) Pérdida de arena en las playas d) Aumento de las emisiones de gases de efecto invernadero</p>
<p>99.-Durante los últimos 100 años, el mayor grado de sismicidad de la Península Ibérica lo encontramos en:</p> <p>a) Submeseta norte b) Valle del Ebro c) Costa Cantábrica d) Sur peninsular</p>	<p>100.- Las especies endémicas tienen que ser protegidas por:</p> <p>a) Su gran belleza b) Su valor comercial c) Exclusividad de un lugar d) Ninguna es correcta</p>



OLIMPIADAGEOGRAFÍA