

## IV OLIMPIADA DE GEOGRAFIA DE ESPAÑA Madrid, 14 de abril de 2013

<b>Nombre y Apellidos</b>	
<b>D.N.I.</b>	
<b>INSTITUTO/COLEGIO</b>	
<b>Comunidad Autónoma</b>	

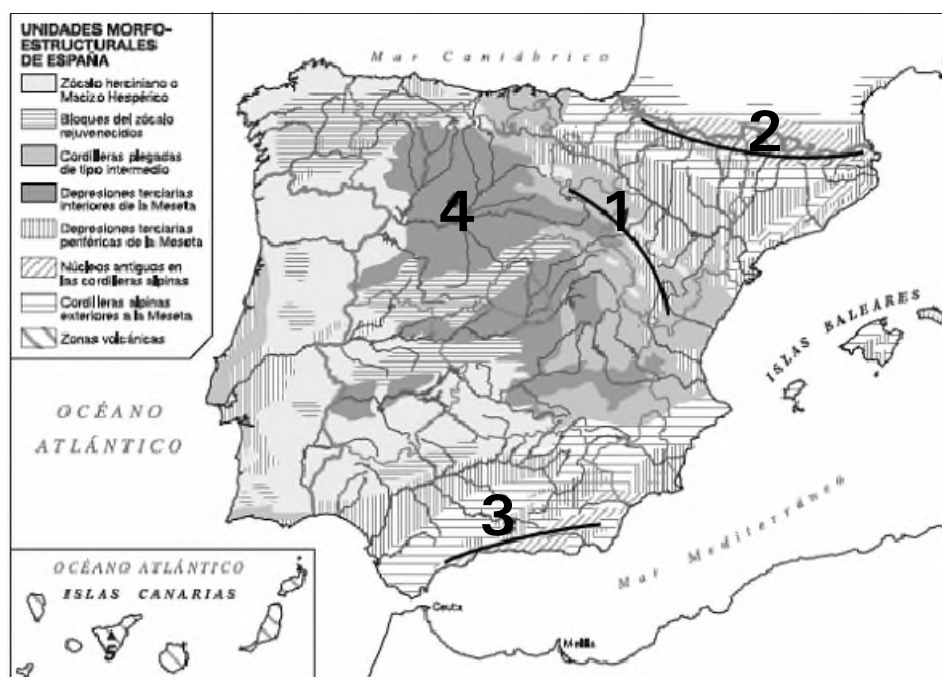
Marca con una "X" la respuesta que consideres correcta

**Puntuación**

--

- 1.- ¿En que Era tuvo lugar la orogenia Alpina?
- Primaria
  - Cuaternaria
  - Secundaria
  - Terciaria
- 2.- ¿Cuál de las siguientes formaciones del relieve español no debe su origen a la orogénesis alpina?
- Sistema Béticos
  - Pirineos
  - Islas Canarias
  - Islas Baleares
- 3.- Los terrenos silíceos son:
- Rocas metamórficas del Precámbrico y la era Primaria
  - Sedimentos de las eras Secundaria y Terciaria, plegados en este último período
  - Sedimentos de finales de la era Terciaria y del Cuaternario
  - Rocas basálticas procedentes de erupciones volcánicas del Cuaternario
- 4.- ¿Cuál es la cordillera de la Península Ibérica con una altitud media más alta?
- Pirineos.
  - Picos de Europa
  - Montes Vascos
  - Sierras de Guadarrama
- 5.- ¿Qué tipos de formaciones nos podemos encontrar al final de la Depresión del Guadalquivir
- Albuferas
  - Marismas
  - Rías
  - Deltas
- 6.- ¿Qué tipo de rocas predominan en los Montes de Toledo?
- Rocas silíceas
  - Rocas calizas
  - Rocas arcillosas
  - Rocas Volcánicas
- 7.- ¿Cuál es el fenómeno geológico característico de la era Cuaternaria?
- Erosión diferencial
  - Sedimentación
  - Orogénesis alpina
  - Glaciarismo
- 8.- Los montes de Toledo separan dos importantes cuencas hidrográficas españolas:
- Tajo y Guadiana.
  - Duero y Tajo
  - Guadiana y Guadalquivir
  - Tajo y Guadalquivir.

Observa el mapa y responde a las preguntas:



- 9.- ¿Que unidad de relieve aparece identificada con el número 4 en el mapa ?
- Meseta Central
  - Pirineos
  - Cordillera Cantábrica
  - Depresión del Duero
- 10.- ¿Cuál de estas unidades NO aparece identificada con los números marcados en el mapa?
- Sistema Central
  - Pirineos
  - Cordilleras Béticas
  - Depresión del Duero

11.- El río más largo de la Península Ibérica es...

- a) Tajo
- b) Duero
- c) Ebro
- d) Guadiana

13.- ¿Cuál de estos ejemplos no corresponde a una laguna litoral?

- a) Albufera de Valencia
- b) Lagunas de Ruidera
- c) Mar Menor
- d) Delta del Ebro

15.- ¿Cuál de estos cuatro ríos no nace en la Meseta?

- a) Duero
- b) Tajo
- c) Guadiana
- d) Guadalquivir

17.- ¿De donde proceden las masas de aire ártico secas que provocan las olas de frío sin apenas precipitaciones?

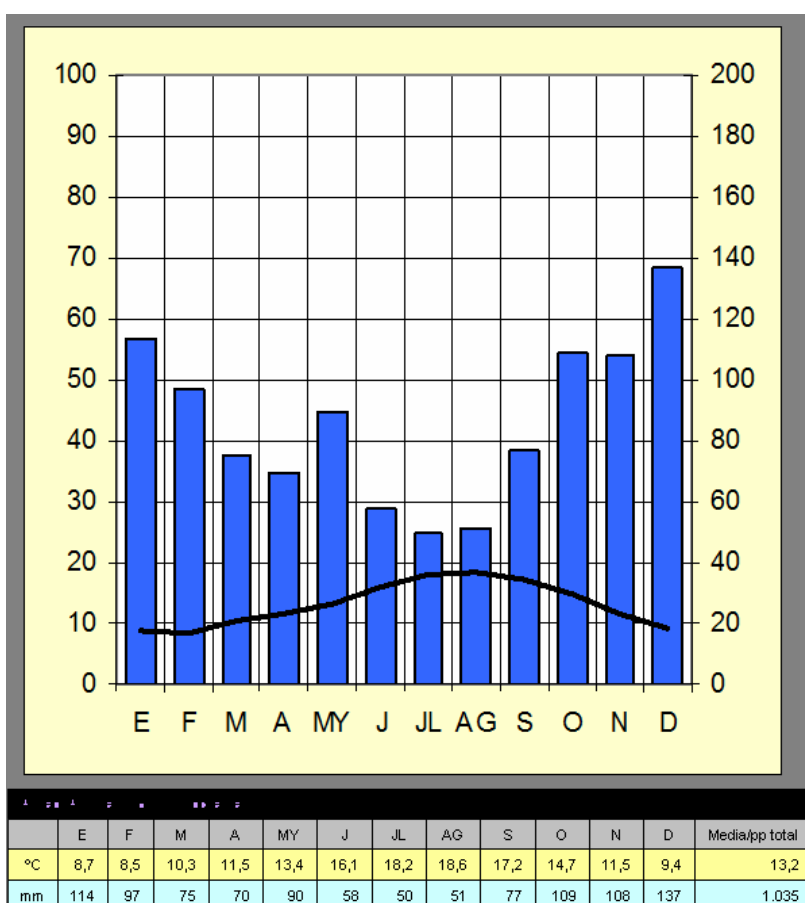
- a) Islandia
- b) Islas Británicas
- c) Siberia
- d) Península escandinava

19.- El aparato que se utiliza para medir la presión atmosférica se denomina

- a) Termómetro
- b) Barómetro
- c) Pluviómetro
- d) Medidor de Presión

21.- La temperatura es

- a) Una causa del clima
- b) Un factor del clima
- c) Un elemento del clima
- d) Un tipo de clima



12.- En qué estación del año se suele producir el estiaje de la mayor parte de los ríos españoles?

- a) otoño
- b) primavera
- c) verano
- d) invierno

14.- Ordena de menor a mayor la longitud de los ríos españoles según la vertiente en que desembocan

- a) Atlántica-Mediterránea-Cantábrica
- b) Cantábrica-Mediterránea-Atlántica
- c) Mediterránea-Cantábrica-Atlántica
- d) Atlántica-Cantábrica-Mediterránea

16.- La basculación orogénica de la Meseta hace que la mayor parte de los ríos viertan al

- a) Norte
- b) Sur
- c) Este
- d) Oeste

18.- ¿Cuál de estas características no se da en el clima subtropical que predomina en las Islas Canarias?

- a) Bajas precipitaciones
- b) Presencia de vientos alisios
- c) Altas temperaturas
- d) Gran amplitud térmica entre temperaturas máximas y mínimas

20.- Cuando hablamos de régimen térmico nos referimos a:

- a) La evolución de las temperaturas de una zona a lo largo del año
- b) La diferencia entre la temperatura media del mes más cálido y la del mes más frío
- c) Las condiciones meteorológicas de la atmósfera en un momento concreto
- d) Las variaciones estacionales que sufre el caudal de un río

22.- ¿Qué factor determina la existencia en la Península Ibérica de dos estaciones, invierno y verano, separadas de otras dos de transición otoño y primavera?

- a) Altitud
- b) Latitud
- c) Gran influencia del mar
- d) Longitud

Observa el climograma de la derecha y responde las 4 preguntas siguientes:

23.- ¿Qué tipo de clima representa este climograma?

- a) Clima mediterráneo
- b) Clima oceánico
- c) Clima continental
- d) Clima de alta montaña

24.- ¿A cuál de estas ciudades representaría?

- a) Valladolid
- b) Oviedo
- c) Barcelona
- d) Sevilla

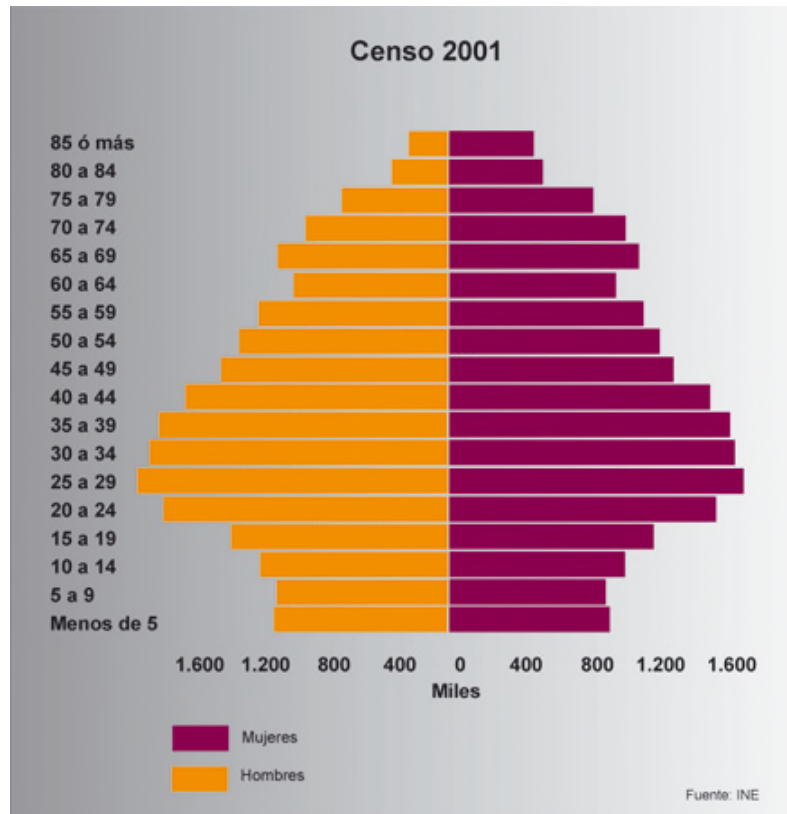
25.- La amplitud térmica anual de esta ciudad es de

- a) 10,5°C
- b) 10,1°C
- c) 8,5°C
- d) 9,2°C

26.- Esta amplitud térmica la clasificamos como

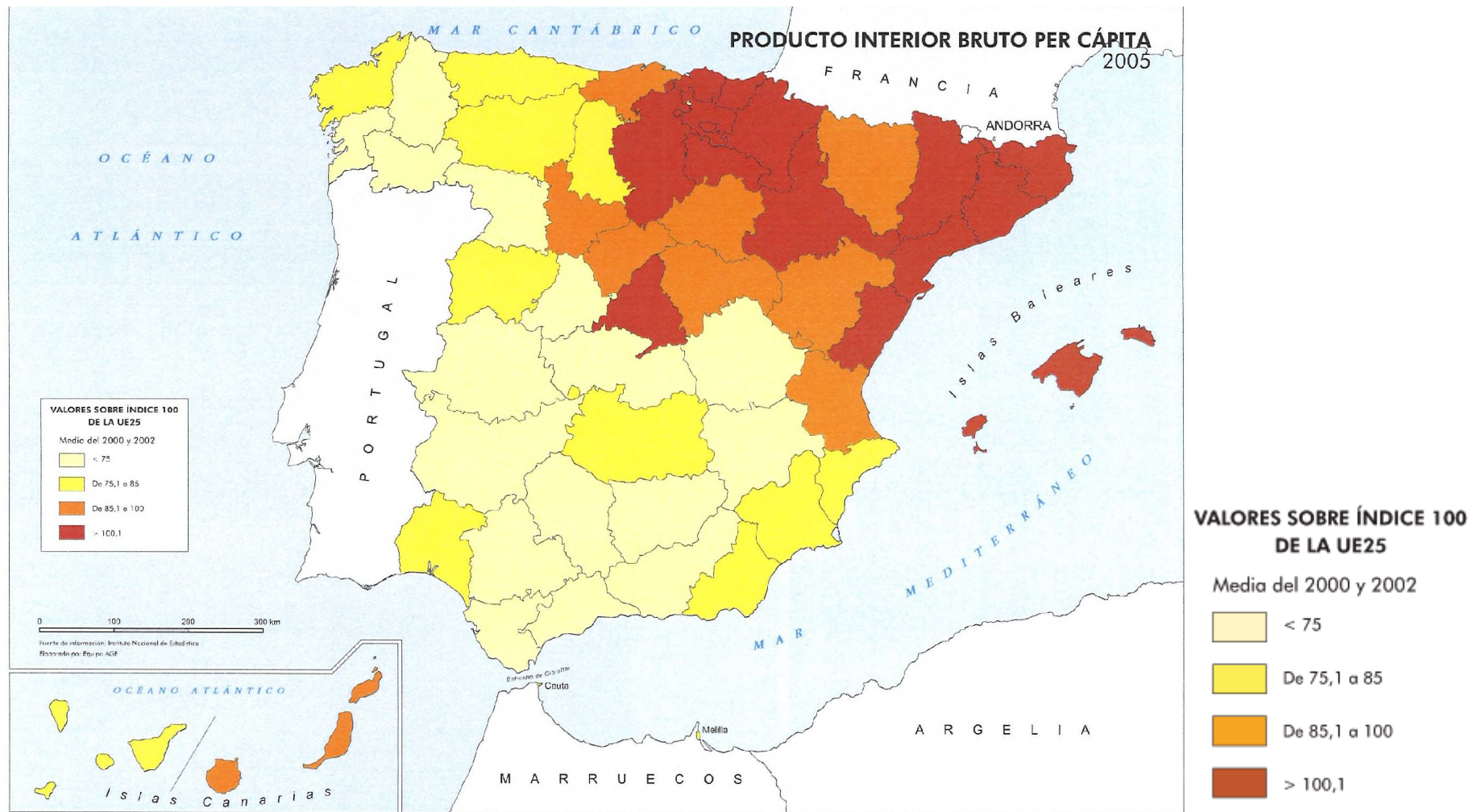
- a) Alta, propia del clima mediterráneo de interior español.
- b) Media, que corresponde al clima mediterráneo marítimo.
- c) Baja, habitual en el clima oceánico.
- d) Muy baja, propia del clima canario.

- 27.- ¿Cuál es la cordillera montañosa que separa Europa de Asia?
- Los Alpes
  - Los Montes Urales
  - Los Montes Cárpatos
  - Montañas del Cáucaso
- 28.- ¿Cuál es la principal fuente de recursos hídricos en las Islas Canarias?
- Lagos volcánicos
  - Acuíferos
  - Los ríos
  - Los embalses
- 29.- ¿Cuál de los siguientes árboles no es habitual en las zonas de bosques perennifolios de clima mediterráneo?
- Alcornoque
  - Roble
  - Pino
  - Encina
- 30.- ¿Qué tipo de vegetación encontraremos en los pisos nivales de los Pirineos?
- Líquenes y musgos
  - Matorrales
  - Pinos Sívostres
  - Brezos
- 31.- ¿Cuál es el principal factor que influye en la gran diversidad de la vegetación peninsular?
- Los escasos incendios forestales
  - Las reforestaciones realizadas por el ser humano
  - La gran importancia de la agricultura y la ganadería
  - Los distintos climas existentes
- 32.- ¿En qué zona de España suelen tener gran presencia los bosques caducifolios?
- Norte y noroeste
  - Interior peninsular
  - Islas Canarias
  - Sureste
- 33.- En un mapa, las líneas isobaras unen...
- los puntos situados a la misma latitud geográfica
  - los puntos situados a la misma altitud sobre el nivel del mar
  - los puntos con la misma presión atmosférica
  - los puntos situados a la misma distancia en tiempo del centro del mapa
- 34.- ¿Dónde es mayor el índice de fecundidad?
- Países desarrollados
  - Países en vías de desarrollo
  - En los países con mayor esperanza de vida
  - En los países con mayor número de mujeres
- 35.- ¿Cuáles de los siguientes son elementos de un territorio?
- Sus recursos físicos
  - Su imagen y su percepción
  - Su cultura y su identidad
  - Todos
- 36.- El paisaje:
- Es un sinónimo del medio ambiente y del Estado
  - Es la percepción geográfica reflejada por los grandes pintores
  - Es un conjunto de formas heterogéneas que caracterizan una unidad geográfica
  - Se divide en físico, humano y subjetivo
- 37.- ¿Qué caracteriza a un régimen demográfico moderno?
- Baja natalidad y alta mortalidad
  - Baja natalidad y mortalidad
  - Alta natalidad y baja mortalidad
  - Alta natalidad y mortalidad
- 38.- La baja mortalidad en España se debe a
- Baja esperanza de vida
  - Crisis económica actual
  - Gran capacidad de hospitales y asistencia sanitaria
  - Poca higiene y mala alimentación
- 39.- ¿Qué significa que un país tenga un crecimiento vegetativo positivo?
- Nacen más personas de las que mueren
  - Tiene una población envejecida, con más ancianos que niños
  - Mueren más niños menores de un año de los que sobreviven
  - Mueren más personas de las que nacen
- 40.- ¿Las pirámides de población nos dan información sobre
- El crecimiento de la población
  - La situación de la población en cuanto a edad y sexo en un determinado momento
  - El número de nacimientos de un año determinado
  - La evolución de la natalidad y la mortalidad de un país
- 41.- El descenso de la natalidad en España se está produciendo por:
- Medidas del gobierno para que esto ocurra
  - Mejor alimentación e higiene de la población
  - Por la entrada de la mujer en el mercado laboral
  - Alta esperanza de vida
- 42.- Señala la afirmación correcta, El crecimiento de la población en España en los últimos 10 años fue:
- Positivo, gracias a la inmigración
  - Negativo, la baja natalidad nos hace decrecer continuamente
  - Tenemos uno de los crecimientos más altos de Europa debido al alto índice de natalidad
  - Ninguna es correcta



Observa la figura de la izquierda y responde estas 2 preguntas:

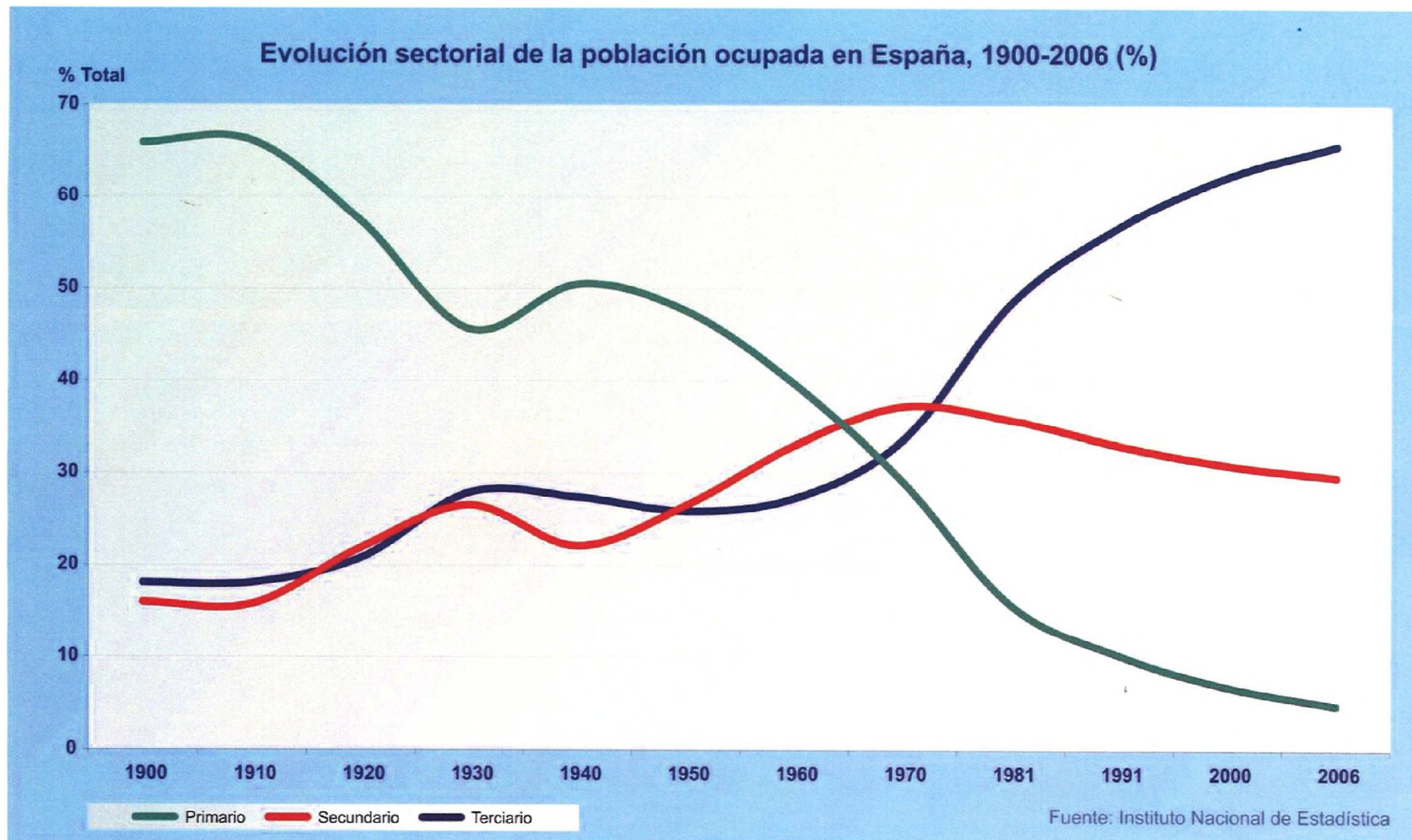
- 43.- La población española tiende al
- envejecimiento
  - incremento de los jóvenes
  - rejuvenecimiento
  - todas son correctas
- 44.- Señala la respuesta incorrecta
- Nacen mas hombres que mujeres
  - La esperanza de vida es más alta en los hombres que en las mujeres
  - Las mujeres viven más años que los hombres
  - Todas son incorrectas
- 45.- El sector agrario en España en las últimas décadas
- Ha aumentado su participación en el Producto Interior Bruto
  - Mantiene su trayectoria descendente
  - Ha conseguido mantener su porcentaje de participación en el Producto Interior Bruto
  - Ninguna es correcta
- 46.- A día de hoy que porcentaje de población de España trabaja en el sector primario?
- 20%
  - 15%
  - 5%
  - 25%
- 47.- ¿Cuál es la comunidad autónoma más importante en cuanto a actividad pesquera, tanto en barcos, como en capturas o producción acuícola?
- Islas Canarias
  - Galicia
  - País Vasco
  - Andalucía
- 48.- ¿Cuál de las siguientes afirmaciones sobre los paisajes del norte de España no es correcta?
- Tiene gran importancia la industria forestal para la producción de papel
  - Las propiedades son minifundistas
  - El cultivo se dedica sobre todo a plantas forrajeras para su ganadería
  - Dada su pluviosidad tiene una gran importancia la agricultura
- 49.- ¿Cuál es el cultivo más habitual en las tierras españolas, ocupando un tercio de todo el territorio?
- Viña
  - Cereales
  - Leguminosas
  - Olivar
- 50.- ¿Cuál es el principal caladero de destino de las flotas pesqueras andaluzas y canarias?
- Sahara
  - Noruega
  - Gran sol
  - Caribe
- 51.- ¿En que parte de España está más desarrollado el minifundio?
- Litoral mediterráneo
  - Extremadura
  - Andalucía
  - Norte de España
- 52.- En que parte de España es más frecuente encontrarse con latifundios como tipo de explotación agrícola más frecuente?
- Litoral mediterráneo
  - Extremadura y Andalucía
  - Valle del Ebro
  - Norte de España



Observa esta mapa y responde a las preguntas siguientes:

- 53.- La distribución del Producto Interior Bruto en España :
- Es bastante homogénea
  - Se concentra en una Comunidad Autónoma
  - Confirma importantes contrastes territoriales
  - Se concentra en el Norte de la península
- 54.- Entre las Comunidades Autónomas con un Producto Interior Bruto per cápita en 2005 más elevado están:
- Andalucía y Murcia
  - Cataluña y País Vasco
  - Extremadura y Galicia
  - Asturias y Castilla-La Mancha
- 55.- Indica cual de estas provincias posee un menor Producto Interior Bruto per cápita en 2005
- Alicante
  - Almería
  - Lugo
  - Madrid
- 56.- ¿Cuál es la actividad del sector servicios que más importancia tiene en el Producto Interior Bruto del País?
- Comercio
  - Turismo
  - Transporte
  - Actividades financieras
- 57.- ¿Cuál NO se encuentra entre los factores humanos que afectan al desarrollo del transporte?
- La densidad y distribución de la población
  - El desarrollo económico
  - Las variaciones climáticas
  - El nivel tecnológico
- 58.- ¿Cuál NO se encuentra entre los factores físicos que afectan al desarrollo del transporte?
- El relieve
  - La topografía
  - La forma de tenencia de la tierra
  - La forma del territorio
- 59.- ¿De que países proceden la mayoría de los turistas que vienen a España?
- Suiza y Francia
  - Reino Unido y Alemania
  - Suiza y Reino Unido
  - Francia y Alemania
- 60.- El área de influencia de un puerto o aeropuerto se denomina...
- Red de atracción
  - Hinterland
  - Low cost
  - Dominio aéreo
- 61.- La procedencia del turismo extranjero en España es
- Mayoritariamente europeo
  - Mayoritariamente asiático
  - Mayoritariamente americano
  - No hay turismo extranjero en España
- 62.- El índice turístico mide
- El volumen de empresas turísticas y su cifra de negocio
  - El número de turistas y sus destinos
  - El dinero que dejan los turistas y su procedencia
  - La estancia media de un turista en un destino específico
- 63.- El turismo es un factor geográfico porque transforma la sociedad, la economía y...
- El territorio
  - El sistema político
  - Reduce la corrupción
  - Industrializa el país.
- 64.- El modelo turístico español
- Se basa exclusivamente en el turismo de sol y playa
  - Se basa exclusivamente en el turismo rural
  - Tiende a diversificarse en los últimos tiempos
  - Ninguna es correcta

- 65.- ¿Cuál de estas consecuencias ambientales no está causada por la contaminación atmosférica?
- la lluvia ácida
  - la reducción de la capa de ozono
  - los incendios forestales
  - el efecto invernadero
- 66.- ¿Qué dos comunidades autónomas sufrieron un mayor impacto por la reestructuración industrial que tuvo lugar en la década de 1980?
- Aragón y Cataluña
  - Asturias y País Vasco
  - Andalucía y Extremadura
  - Las dos Castillas
- 67.- ¿Qué nombre recibe el proceso por el cual en el mundo moderno la interdependencia entre países es cada vez más evidente?
- Globalización
  - Deslocalización
  - Mundialización
  - Desindustrialización
- 68.- ¿Qué tratado fue el punto de partida para la creación de la Unión Europea?
- Tratado de Ámsterdam
  - Tratado de Niza
  - Tratado de Roma
  - Tratado de Madrid
- 69.- ¿En qué año entró a formar parte España de la Organización de Naciones Unidas?
- 1986, con el ingreso en la Unión Europea
  - 1945, año de su fundación
  - 1978, tras la muerte de Franco
  - 1955, junto a otros 15 países
- 70.- Ordena estos aeropuertos de menor a mayor según su número de pasajeros:
- Burgos-Palma de Mallorca-Barcelona El Prat-Madrid Barajas
  - Madrid Barajas-Barcelona El Prat-Palma de Mallorca-Burgos
  - Madrid Barajas-Barcelona El Prat- Burgos -Palma de Mallorca
  - Barcelona El Prat-Burgos-Madrid Barajas-Palma de Mallorca
- 71.- ¿Cómo se llama al proceso producido en la década de los 80 del pasado siglo por el que se trató de renovar el sector secundario español muy castigado por los efectos de la crisis?
- Planes de desarrollo
  - Reconversión industrial
  - Plan Nacional de Estabilización Económica
  - Renovación del sector secundario
- 72.- ¿En qué década del siglo pasado tuvo lugar en España el proceso de reconversión industrial para adaptarse a la modernidad y a la competencia europea?
- 1970
  - 1960
  - 1980
  - 1950
- 73.- ¿Cuál de las siguientes fuentes energéticas no se encuentra entre las consideradas renovables?
- Eólica
  - Solar
  - Hidráulica
  - Gas natural
- 74.- Las fuentes de energía según su grado de aprovechamiento pueden ser
- Minerales y animales
  - Renovables y no renovables
  - Parciales y completas
  - Primarias y finales
- 75.- ¿Aproximadamente qué porcentaje de la red de carreteras españolas son autovías o autopistas?
- 10%
  - 21%
  - 3%
  - 40%
- 76.- ¿Qué caracteriza al comercio interior de España y que ha evolucionado considerablemente en los últimos años?
- Las compras a través de Internet
  - Presencia de grandes Centros Comerciales
  - Compra diaria en comercio minorista
  - La especialización de los barrios
- 77.- Atendiendo a las funciones urbanas las ciudades primarias están especializadas en:
- Ser multifuncionales.
  - Estar centradas en las actividades del sector primario.
  - Ser las primeras en población del país.
  - Ofrecer servicios bancarios de primer orden.
- 78.- Con qué país norteafricano mantiene España una importante relación por sus vínculos históricos y económicos?
- Túnez
  - Marruecos
  - Argelia
  - Libia



Observa esta gráfica y responde a las 3 cuestiones siguientes:

- 79.- A partir de 1980 los empleos industriales tienden a
- Reducirse
  - Permanecer estables
  - Incrementarse
  - Todas son correctas
- 80.- En el año 2006 ¿En qué sector económico trabajan más españoles?
- En industria y construcción
  - En el terciario
  - En la suma del primario y secundario
  - En el comercio
- 81.- El sector servicios se caracteriza por
- Homogeneidad
  - Crecimiento
  - Heterogeneidad
  - Estancamiento
- 82.- En los países más desarrollados, el sector terciario se caracteriza por...
- Su fuerte proceso de industrialización.
  - Emplear a la mayoría de la población activa.
  - Concentrarse en las localidades turísticas.
  - Concentrar el empleo en las actividades financieras
- 83.- ¿Cuál de las siguientes industrias refleja mejor el desarrollo tecnológico de un país?
- La agropecuaria
  - La de confección y calzado
  - La del mueble
  - La de bienes de equipo
- 84.- ¿Cómo se denomina la ampliación de las ciudades de forma planificada en una cuadrícula o plano ortogonal?
- Casco histórico
  - Ensanche
  - Área metropolitana
  - Cinturones
- 85.-Cuál de estas ciudades no opto por un proceso de ensanche para ampliar sus límites urbanos
- Zaragoza
  - Bilbao
  - Barcelona
  - Madrid
- 86.- Ordena cronológicamente la aparición histórica de las siguientes zonas en las ciudades:
- Ensanches-barrios obreros-centro histórico-urbanizaciones
  - Centro histórico, barrios obreros-ensanches-urbanizaciones
  - Centro histórico-ensanche-barrios obreros-urbanizaciones
  - Ensanches-centro histórico- barrios obreros-urbanizaciones
- 87.- ¿Qué se conoce como proceso de rururbanización?
- Migración del medio rural al urbano
  - Urbanización de las zonas rurales cercanas a la ciudad
  - Unión de zonas rurales
  - Construcción de zonas verdes artificiales en núcleos urbanos
- 88.-El plano ortogonal se caracteriza por
- Distribución de los distintos elementos urbanos a lo largo de una vía principal
  - Ser un plano desordenado
  - Calles rectilíneas que se cruzan formando ángulos rectos, estableciéndose una especie de cuadrícula
  - Calles que parten del centro prolongándose en sentido radial
- 89.-La ciudad musulmana se caracteriza por su plano
- Regular
  - Laberíntico
  - Ordenado
  - Radioconcéntrico
- 90.- ¿Cuántas provincias tiene la Comunidad de Castilla-La Mancha?
- 6
  - 5
  - 3
  - 2

91. ¿ Que País no tiene frontera con Suiza

- a) Liechtenstein
- b) Francia
- c) Polonia
- d) Italia

92.- ¿Cuál es el segundo país más grande de Europa?

- a) Ucrania
- b) Italia
- c) Inglaterra
- d) España

93.- ¿A qué nos referimos con las siglas CBD?

- a) Un área central dedicada a negocios y actividades del terciario superior
- b) Un área industrial
- c) Un barrio dormitorio
- d) Una ciudad satélite

94.- Cuál de estas provincias no posee litoral.

- a) Granada
- b) Girona
- c) Albacete
- d) Murcia

95.- ¿Como se llama el programa de la UNESCO que pretende proteger las zonas del planeta con mayor importancia ecológica y que cuenta con más de 30 ejemplos en España?

- a) Patrimonio de la Humanidad
- b) Red Natura 2000
- c) Reserva de la Biosfera
- d) Parques Naturales Mundiales

96.- ¿En cual de estos países de la Unión Europea no se puede pagar en euros?

- a) Reino Unido
- b) Francia
- c) Bélgica
- d) En todos se puede pagar en euros

97.- ¿Cuál de los siguientes espacios naturales, no es un parque nacional?

- a) Tablas de Daimiel
- b) Islas Atlánticas de Galicia
- c) Garajonay
- d) Islas Cíes

98.-¿Qué Comunidad Española tiene en su territorio más Parques Nacionales declarados?

- a) Aragón
- b) Castilla-La Mancha
- c) Islas Canarias
- d) Madrid

99.- El Parque Nacional de Tablas de Daimiel se encuentra en la provincia de

- a) Madrid
- b) Albacete
- c) Ciudad Real
- d) Toledo

100.- Un Sistema de Información Geográfica es:

- a) Una red de ordenadores interconectados en los que se trabaja con cartografía digital
- b) Un sistema de hardware, software y procedimientos elaborados para gestionar, manipular y analizar datos digitales espacialmente referenciados
- c) Un sistema para distribuir cartografía digital en Internet
- d) Ninguna de las respuestas anteriores es correcta